

به نام خدا

آذر ماه - ۹۴

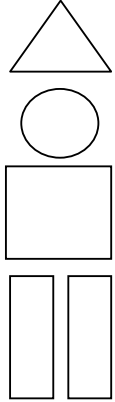
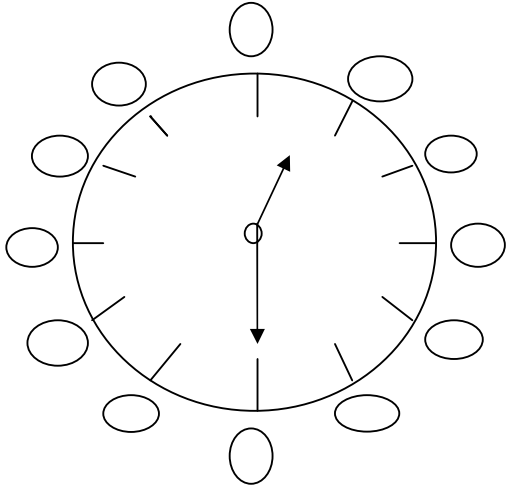
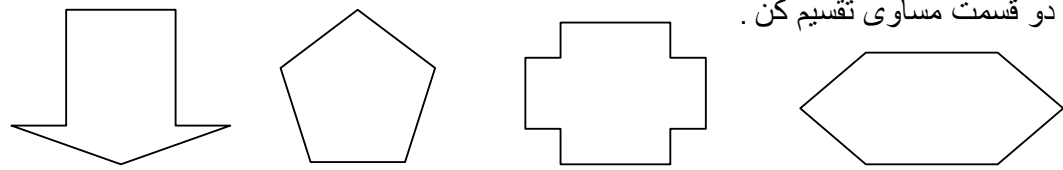
گروه آموزشی ناحیه ۳ اهواز

آزمون مداد کاغذی ریاضی - پایه دوم

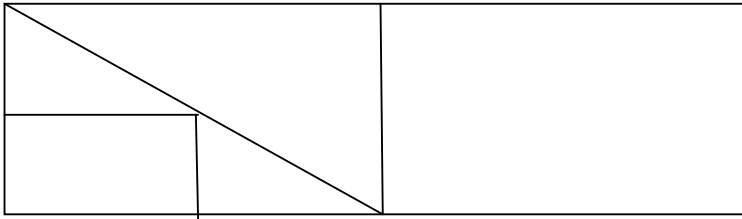


شماره دانش آموز:

نام و نام خانوادگی:

 <p>→ → → →</p>	<p>۱ نام شکل های زیر را بنویس . (..... ضلع و گوشه دارد) (..... ضلع و گوشه دارد) (..... ضلع و گوشه دارد) (..... ضلع و گوشه دارد)</p>
	<p>۲ عددها و دقیقه های ساعت مقابل را بنویس و ساعت را بخوان . ساعت ... و ... دقیقه است :</p>
<p>۳ در یک آگوارיום ۴۶ ماهی قرمز و ۳۲ ماهی سفید شنا می کنند . این آگوارיום چند ماهی دارد ؟</p>	
<p>۴ الگو یابی کن و ادامه بده ، ، ، ۶۰ ، ۶۳ ، ، ، ، ۳۶ ، ۴۲ ، ، ، ، ۴ ، ۵ ، ۷ ، ۱۰ ،</p>	
<p>۵ شکل های زیر را به دو قسمت مساوی تقسیم کن .</p> 	

۶ سمت راست شکل روبرو را مانند سمت چپ آن با خط کش کامل کن . طوری که اگر از روی خط تا کنیم قسمت های چپ و راست روی هم بیفتند .

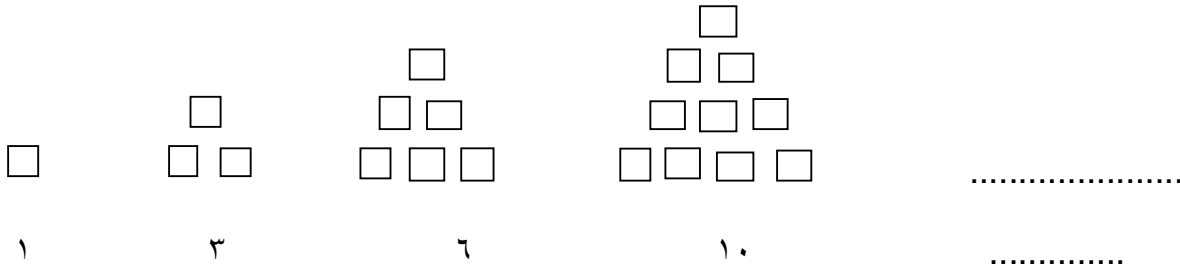


۷ جمع و تفریق زیر را ، با کشیدن شکل پاسخ بده .

$$\begin{array}{r} 43 \\ + 25 \\ \hline \dots \\ + \dots \\ \hline \dots \end{array}$$

$$\begin{array}{r} 44 \\ - 27 \\ \hline \dots \\ - \dots \\ \hline \dots \end{array}$$

۸ اگر کشیدن شکل ها را به همین ترتیب ادامه دهیم شکل بعدی چه عددی را نشان می دهد.



۹ آرش برای جشن یلدا ۲۴ بادکنک قرمز و سفید به کلاس آورد . اگر تعداد بادکنک های قرمز ۱۱ تا باشد ، تعداد بادکنک های سفید چند تا است ؟

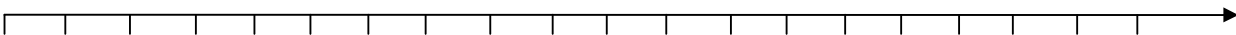
$$7 + 8 = \square$$



رسم چوب خط

۱۰ جمع زیر را از راه خواسته شده ، انجام بده .

محور را عدد گذاری کن .



۱۱ من چه عددی هستم؟
 من از کم ترین عدد یک رقمی ۲ تا بیش تر هستم
 رقم دهگان من ۲ و یکان من ۵ تا بیش تر از دهگانم است
 من رقم یکان کوچک ترین عدد دو رقمی هستم

۱۲ همه ی عدد های دو رقمی که با رقم های ۳ و ۵ برای یکان و ۶ و ۲ برای دهگان می توان نوشت را در جدول بنویس .

یکی	ده تایی
.....
.....
.....
.....

۱۳ با رنگ کردن مربع ها و یا خط زدن مربع های رنگ نشده حاصل جمع و تفریق هارا به دست بیاورید .

$$\begin{array}{r} +9 \\ 8 \\ \hline \square \end{array}$$

--	--	--	--	--	--	--	--	--	--	--	--	--	--	--	--	--	--	--	--

--	--	--	--	--	--	--	--	--	--	--	--	--	--	--	--	--	--	--	--

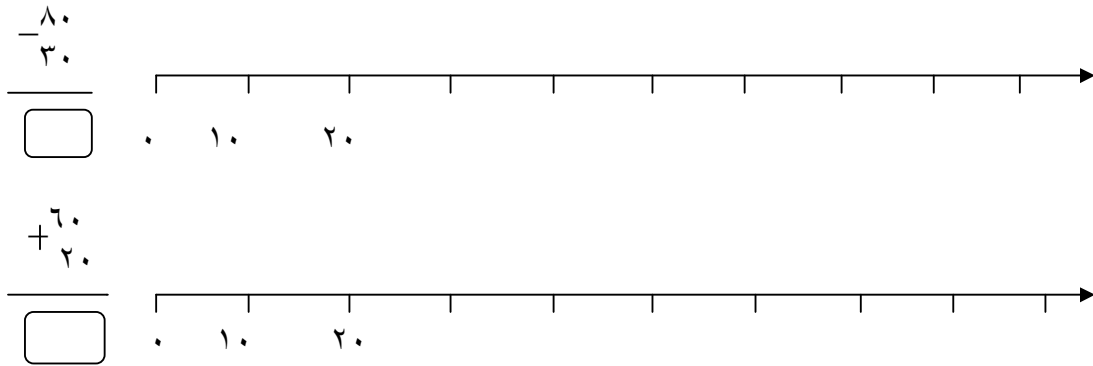
$$\begin{array}{r} -16 \\ 7 \\ \hline \square \end{array}$$

--	--	--	--	--	--	--	--	--	--	--	--	--	--	--	--	--	--	--	--

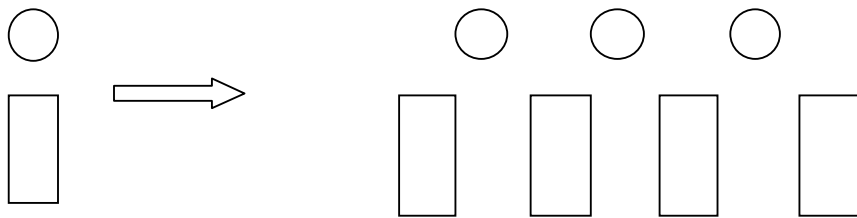
--	--	--	--	--	--	--	--	--	--	--	--	--	--	--	--	--	--	--	--

۱۴ سه قسمت دیگر شکل را با توجه به خط تقارن کامل کن .

۱۵ جمع و تفریق های داده شده را روی محور نشان بده و پاسخ را بنویس .



۱۶ اگر برای رنگ کردن دایره از رنگ های زرد و قرمز و سیاه و برای رنگ کردن مستطیل از رنگ های سبز و آبی و بنفش و صورتی استفاده کنیم برای شکل روبرو چند حالت می توان پیدا کرد ؟



$$20 + 10 + 10 + 0 + 30 + 20 + 4 = \square$$

$$10 + 4 + 10 + 30 + 2 + 20 + 10 + 2 = \square$$

۱۷ در جاهای خالی عدد مناسب بگذار .